

Pilihlah jawaban yang paling tepat !

A. SOAL AGAMA

1. Surat al-Qadar terdiri atas ... dan termasuk surat
 - A. 5 ayat – Makkiyyah
 - B. 6 ayat – Makkiyyah
 - C. 7 ayat – Madaniyyah
 - D. 8 ayat – Madaniyyah
2. Surat al-Qadar dinamai dengan al-Qadar karena pada ayat pertamanya terdapat kalimat al-Qadar. Al-Qadar berarti malam kemuliaan, yaitu
 - A. malam terakhir diturunkannya al-Qur'an ke dunia
 - B. malam diperingati turunnya al-Qur'an ke dunia
 - C. malam dimuliakannya al-Qur'an di seluruh negara
 - D. malam permulaan diturunkannya al-Qur'an ke dunia
3. Dalam surat al-Qadar dijelaskan bahwa malaikat Jibril dan para malaikat lainnya turun ke dunia pada malam Lailatul Qadar untuk
 - A. mengajarkan kebaikan
 - B. membantu dakwah Nabi
 - C. mengatur segala urusan
 - D. mengadzab orang kafir
4. Barangsiapa berbuat kebajikan pada malam *Lailatul Qadar* maka akan memperoleh pahala yang nilainya lebih baik dari seribu bulan. Dalam seribu bulan ada
 - A. 83 tahun
 - B. 84 tahun
 - C. 85 tahun
 - D. 86 tahun
5. Kalimat {Ruh} yang ada pada ayat keempat surat al-Qadar maksudnya adalah
 - A. malaikat Mikail
 - B. ruh nabi Muhammad
 - C. ruh manusia
 - D. malaikat Jibril
6. Surat yang pertama kali turun adalah ... sewaktu nabi Muhammad SAW berkhalwat di
 - A. surat al-Fatihah ayat 1-7 – Gua Tsur
 - B. surat al-Fatihah ayat 1-7 – Gua Hira
 - C. surat al-‘Alaq ayat 1-5 – Gua Hira
 - D. surat al-Qadar ayat 1-5 – Gua Tsur
7. Nama lain surat al-‘Alaq adalah
 - A. surat Kholaq atau surat al-Insan
 - B. surat Iqra atau surat al-Qalam
 - C. surat al-Qalam atau surat al-Insan
 - D. surat Iqra atau surat al-Akram
8. “Allah SWT menjelaskan tentang asal mula kejadian manusia yang berasal dari segumpal darah”, pernyataan ini merupakan kandungan dari
 - A. surat al-‘Alaq ayat 2
 - B. surat al-‘Alaq ayat 3
 - C. surat al-‘Alaq ayat 4
 - D. surat al-‘Alaq ayat 5

9. “Semua manusia berada dalam keadaan merugi apabila dia tidak mengisi waktunya dengan perbuatan-perbuatan baik”, pernyataan ini adalah kandungan pokok dari
- A. surat al-‘Alaq
B. surat al-Qadar
C. surat al-‘Asr
D. surat al-Kafirun
10. Seorang muslim dapat mengamalkan ajaran al-Qur’an manakala ia
- A. sudah membelinya, dapat mengajarkannya, dan membeli terjemahnya
B. sudah memilikinya, sudah membacanya, dan sudah mengajarkannya
C. dapat menuliskannya, mengetahui tajwidnya, dan membaca terjemahnya
D. dapat membacanya, mengenal terjemahnya, dan mengetahui kandungannya
11. Surat dalam al-Qur’an yang dinamai *Ummul Qur’an* adalah
- A. surat al-‘Ashr
B. surat al-Fatihah
C. surat al-‘Alaq
D. surat al-Qadar
12. “Seorang mukmin harus menyembah dan meminta pertolongan hanya kepada Allah”. Pernyataan ini adalah isi kandungan dari surat
- A. al-Fatihah ayat 6
B. al-Fatihah ayat 5
C. al-Fatihah ayat 4
D. al-Fatihah ayat 3
13. Dalam surat an-Nashr dijelaskan bahwa bila telah datang pertolongan Allah dan kemenangan, kemudian manusia berbondong-bondong masuk Islam, maka Nabi Muhammad SAW diperintahkan melakukan 2 hal, yaitu
- A. beramar ma’ruf nahi munkar
B. berdakwah dan berjihad
C. shalat sunnah dan berpuasa
D. bertasbih dan beristighfar

14. Di antara isi kandungan surat al-Lahab adalah bahwa akan selalu ada – orang yang
- A. menentang dakwah Islam
B. menuntut ilmu agama
C. mencari harta dunia
D. mencari ridha Allah
15. Di antara manusia ada yang tujuan hidupnya adalah mencari harta sebanyak-banyaknya dan menganggap kehidupan dunia adalah kesempatan bersenang-senang sepuasnya. Ia melupakan akhirat dan tidak beribadah kepada Allah SWT. Peringatan Allah terhadap orang yang seperti ini terdapat dalam
- A. surat al-Qori’ah
B. surat al-Insyirah
C. surat at-Takatsur
D. surat al-Zalzal
16. Islam adalah agama kasih sayang yang sangat menganjurkan pemeluknya untuk menolong dan membantu orang-orang yang membutuhkan bantuan. Di antara orang-orang yang harus dibantu yang disebutkan dalam surat al-Ma’un adalah
- A. anak hilang dan para pengemis
B. anak jalanan dan tuna wisma
C. anak punggut dan gelandangan
D. anak yatim dan orang miskin
17. Beriman kepada Hari Akhir termasuk rukun iman yang ke
- A. 3
B. 4
C. 5
D. 6
18. Peristiwa Kiamat dilihat dari kejadiannya dibedakan atas dua macam, yakni
- A. kiamat shugra dan kiamat kubra
B. kiamat mudah dan kiamat sulit
C. kiamat dekat dan kiamat jauh
D. kiamat ringan dan kiamat berat

19. Di antara nama hari kiamat atau hari akhir yang artinya 'hari pembalasan' adalah

- | | |
|------------------|-----------------|
| A. Yaumul Khulud | C. Yaumul Jam'i |
| B. Yaumul Ba'ts | D. Yaumul Jaza' |

20. Dalam surat apakah kita dapat membaca gambaran tentang dahsyatnya hari kiamat

- | | |
|----------------------|----------------------|
| A. surat al-'Ashr | C. surat al-Ma'un |
| B. surat al-Zalzalah | D. surat at-Takatsur |

21. Malaikat yang bertugas memberi tanda datangnya hari kiamat melalui tiupan sangkakala adalah

- | | |
|--------------------|---------------------|
| A. malaikat Izrail | C. malaikat Israfil |
| B. malaikat Jibril | D. malaikat Mikail |

22. Malaikat yang bertugas mencabut nyawa adalah

- | | |
|---------------------|--------------------|
| A. malaikat Israfil | C. malaikat Mikail |
| B. malaikat Izra'il | D. malaikat Malik |

23. Berikut ini adalah nama-nama neraka, kecuali

- | | |
|----------|-------------|
| A. Na'im | C. Huthamah |
| B. Saqar | D. Jahannam |

24. Berikut ini adalah beberapa cara untuk menghindari perilaku dengki, kecuali

- A. menanamkan rasa syukur dalam hati
- B. merasa cukup dengan pemberian dari Allah SWT
- C. menyadari bahwa segala sesuatu bersifat sementara
- D. mencari tahu karunia Allah kepada orang lain

25. Berikut ini adalah beberapa cara untuk menghindari perilaku bohong, kecuali

- A. meyakini bahwa Allah Maha Mengetahui
- B. menutupi kebohongan dengan kebohongan
- C. berusaha bersikap jujur walau resikonya berat
- D. mengingat kerugian yang diakibatkannya

26. Sifat dengki akan menghanguskan kebaikan seperti

- A. dingin menggantikan panas
- B. kejahatan menutupi kebaikan
- C. api memakan kayu bakar
- D. kebenaran menggantikan kesalahan

27. Ahmad ingin masuk sekolah unggulan. Setelah mengikuti test ternyata ia tidak berhasil dan hanya diterima di sekolah biasa. Meski demikian ia menerima dengan ikhlas dan tetap berprasangka bahwa itu adalah ketentuan Allah yang terbaik untuknya. Sikap Ahmad seperti ini adalah contoh

- | | |
|----------------------------|----------------------------------|
| A. husnuzhon kepada sesama | C. husnuzhon kepada sekolah |
| B. husnuzhon kepada Allah | D. husnuzhon kepada diri sendiri |

28. Rasa atau sikap tidak senang terhadap kenikmatan atau kebahagiaan yang diperoleh oleh orang lain dan berusaha untuk melenyapkannya disebut

- A. Hasad
B. Namimah
C. Ananiah
D. Ghibah

29. Suatu sikap mental yang enggan mengeluarkan harta atau lainnya kepada orang lain yang membutuhkannya, sementara dirinya berkecukupan disebut

- A. Mubadzir
B. Hemat
C. Bakhil
D. Dermawan

30. Nabi Muhammad SAW bersabda yang artinya: “Ketahuilah sesungguhnya di dalam tubuh itu ada segumpal daging, jika baik maka baiklah seluruh tubuh, dan jika rusak maka rusaklah seluruh tubuh, ketahuilah dia itu adalah”

- A. Jantung
B. Hati
C. Paru-paru
D. Lambung

31. { مَنْ كَانَ يُؤْمِنُ بِاللَّهِ وَالْيَوْمِ الْآخِرِ فَلْيُكْرِمْ جَارَهُ }

Perintah yang terdapat dalam hadits di atas adalah

- A. menghormati orang tua
B. menghormati tamu
C. menghormati tetangga
D. menghormati teman

32. Najis berat dinamakan najis

- A. Mughallazhoh
B. Mukhaffafah
C. Mutawassithoh
D. Musta'mal

33. Cara atau perbuatan yang dilakukan seseorang dengan tujuan membersihkan diri, pakaian atau tempat dari hadats dan najis disebut

- A. Wudhu
B. Mandi
C. Istinja'
D. Thaharah

34. Perhatikan hal-hal berikut ini!

1. berkumur-kumur
2. niat
3. membasuh tiga kali
4. membasuh muka
5. mendahulukan yang kanan
6. membasuh tangan

Yang termasuk fardhu wudhu' adalah

- A. 1, 2 dan 3
B. 2, 4 dan 5
C. 2, 4 dan 6
D. 3, 5 dan 6

35. Jika waktu shalat telah masuk sementara air tidak ada, maka yang dapat dijadikan sebagai sarana alternatif untuk bersuci adalah

- A. Batu
B. Debu
C. Bambu
D. Tissue

36. Perhatikan hal-hal berikut ini!

1. Masuk waktu sholat
2. Niat
3. Menghadap kiblat
4. Menutup aurat
5. Takbiratul ihram
6. Membaca surat al-fatihah

Yang merupakan syarat sah shalat adalah

- A. 1, 2 dan 3
B. 2, 5 dan 6
C. 1, 3 dan 4
D. 4, 5 dan 6

37. Diam beberapa saat dalam shalat setelah tenang anggota-anggota badan disebut

- A. Thuma'ninah
B. I'tidal
C. Takbirotul Ihram
D. Tasyahud

38. Berdiri dalam shalat termasuk

- A. sunnah shalat
B. rukun shalat
C. syarat sahnya shalat
D. syarat wajib shalat

39. Allah SWT menciptakan jin dan manusia adalah agar mereka beribadah kepada-Nya, ayat yang menyatakan hal tersebut adalah

- A. إِنَّ أَكْرَمَكُمْ عِنْدَ اللَّهِ أَتْقَاكُمْ إِنَّ اللَّهَ عَلِيمٌ خَبِيرٌ
B. وَمَا خَلَقْتُ الْجِنَّ وَالْإِنْسَ إِلَّا لِيَعْبُدُونِ
C. يَا مَعْشَرَ الْجِنَّ وَالْإِنْسِ إِنِ اسْتَطَعْتُمْ أَنْ تَتَّقُوا اللَّهَ
D. يَا أَيُّهَا النَّاسُ اعْبُدُوا رَبَّكُمُ الَّذِي خَلَقَكُمْ

40. Contoh makanan yang menjadi tidak halal dari segi prosesnya adalah

- A. memakan buah apel langsung dipetik dari pohonnya
B. makan daging hewan kurban yang dibagikan tetangga
C. makan daging ayam yang tidak disembelih dahulu
D. makan buah kurma yang sudah agak lama tersimpan

41. Surat al-Hujurat ayat 13 menerangkan bahwa kemuliaan seseorang dibedakan dari

- A. ketakwaannya
B. garis keturunan
C. kekayaannya
D. status sosial

42. Manusia termasuk makhluk yang paling sempurna karena mempunyai

- A. nafsu dan akal
B. mata dan telinga
C. tangan dan kaki
D. akal dan pikiran

43. Bila seorang muslim mendapat musibah ia bersabar dengan mengucap {Inna lillahi wa inna ilaihi raji'un}, kalimat yang digarisbawahi ini disebut

- A. Istirja'
B. Istighfar
C. Istidraj
D. Istifham

44. Allah SWT memberikan ujian kepada seseorang agar

- A. Badannya semakin kuat
B. Tidak takut berbuat dosa
C. Terbiasa dengan derita
D. Keimanannya meningkat

45. Adalah menjadi kewajiban para rasul untuk menyampaikan kepada manusia apa yang diterima dari Allah berupa wahyu. Sifat wajib rasul yang sesuai dengan pernyataan ini adalah

- A. Amanah
B. Siddiq
C. Fathonah
D. Tabligh

46. Kitab Zabur diturunkan kepada

- A. Nabi Daud AS
B. Nabi Musa AS
C. Nabi Isa AS
D. Nabi Ibrahim AS

47. Nabi yang memiliki mu'jizat dapat melunakkan besi adalah

- A. Nabi Musa AS
B. Nabi Sulaiman AS
C. Nabi Ibrahim AS
D. Nabi Daud AS

48. Di antara 25 rasul yang wajib diimani ada 5 nabi yang bergelar Ulul Azmi. Ulul Azmi artinya
- yang memiliki pengaruh dan mukjizat yang luar biasa
 - yang memiliki pangkat dan kedudukan yang luar biasa
 - yang memiliki banyak pengikut dan memaafkan musuhnya
 - yang memiliki ketabahan dan kesabaran yang luar biasa
49. Sepuluh tahun beliau di negeri Madyan, lalu berniat kembali ke Mesir bersama keluarganya. Di tengah perjalanan, beliau menerima wahyu dari Allah SWT tepatnya di bukit Tur Sina. Cerita di atas berhubungan dengan kisah
- Nabi Yusuf AS
 - Nabi Ibrahim AS
 - Nabi Musa AS
 - Nabi Isa AS
50. Beliau adalah putra dari Ishaq bin Ibrahim AS. Meskipun diuji Allah SWT dengan kekurangan harta dan penyakit keras yang tidak kunjung sembuh, namun beliau tetap yakin dan tabah bahwa Allah SWT akan menolongnya. Cerita di atas berhubungan dengan kisah
- Nabi Daud AS
 - Nabi Ayyub AS
 - Nabi Yusuf AS
 - Nabi Syu'aib AS

B. SOAL MATEMATIKA

51. Urutan pecahan dari nilai yang terbesar adalah

- $\frac{1}{3}; 0,25; \frac{2}{3}; 75%; \frac{1}{2}; \frac{5}{6}$
- $\frac{5}{6}; 75%; \frac{2}{3}; \frac{1}{2}; \frac{1}{3}; 0,25$
- $0,25; \frac{1}{3}; \frac{1}{2}; \frac{2}{3}; 75%; \frac{5}{6}$
- $\frac{5}{6}; \frac{1}{2}; 75%; 0,25; \frac{2}{3}; \frac{1}{3}$

52. Hasil dari $16 - 42 : (-6) = \dots$

- 9
- 17
- 23
- 34

53. Bu Hanifah mempunyai 8 kotak kue dan setiap kotak berisi 32 buah kue. Setelah semua kotak dibuka, ternyata ada kue yang rusak sebanyak 16 buah. Kemudian kue-kue yang tidak rusak dibagikan sama banyak kepada 40 siswanya. Banyak kue yang diterima setiap siswa adalah

- 6
- 8
- 9
- 10

54. $6\frac{5}{8} + 3\frac{3}{4} - 4\frac{2}{3} = \dots$

- $5\frac{11}{24}$
- $5\frac{13}{24}$
- $5\frac{16}{24}$
- $5\frac{17}{24}$

55. Seekor ikan berada di kedalaman 23 meter dibawah permukaan air. Kemudian berenang naik sejauh 7 meter. Seekor burung bertengger di pohon dengan ketinggian 5 meter di atas tanah. Jarak burung dengan ikan tersebut adalah

- A. 35 meter
B. 25 meter
C. 21 meter
D. 11 meter

56. Salma mempunyai pita sepanjang 12 m, kemudian $\frac{3}{4}$ nya diberikan kepada adiknya. Salma membeli lagi pita sepanjang $\frac{1}{2}$ bagian dari panjang pita semula. Panjang pita Salma sekarang adalah

- A. 7 m
B. 8 m
C. 9 m
D. 10 m

57. Pada bulan yang lalu Pak Asep membeli sepeda seharga Rp. 850.000. Karena keperluan yang mendadak sepeda itu dijual kembali dan menanggung rugi 20%. Harga jual sepeda pak Asep adalah

- A. Rp 690.000
B. Rp 680.000
C. Rp 170.000
D. Rp 160.000

58. Hasil dari $\sqrt{256} + 23^2 = \dots$.

- A. 545
B. 445
C. 62
D. 39

59. Jarak kota A dan B pada peta yang berskala 1 : 550.000 adalah 20 cm. Jarak sebenarnya antara kedua kota tersebut adalah

- A. 275 km
B. 110 km
C. 27,5 km
D. 11 km

60. Perbandingan uang Amin dan Ahmad adalah 2 : 3. Jika jumlah uang mereka Rp 2.000.000, selisih uang mereka adalah

- A. Rp 500.000
B. Rp 400.000
C. Rp 300.000
D. Rp 200.000

61. $2 \text{ jam} + 56 \text{ menit} + 59 \text{ detik}$
 $2 \text{ jam} + 45 \text{ menit} + 18 \text{ detik} +$

$k \text{ jam} + m \text{ menit} + n \text{ detik}$

Hasil penjumlahan di atas akan menjadi benar jika berturut-turut k, m, dan n diganti dengan bilangan

- A. 4 ; 42 ; 17
B. 4 ; 41 ; 17
C. 5 ; 42 ; 77
D. 5 ; 42 ; 17

62. Ibu Ani berbelanja kebutuhan rumah tangga ke pasar setiap 2 hari sekali. Ibu Aminah setiap 3 hari sekali, dan ibu Hasan setiap 4 hari sekali. Jika ketiga ibu tersebut belanja bersama untuk pertama kalinya pada tanggal 2 Maret, maka ketiga ibu tersebut akan belanja bersama lagi untuk yang ketiga kalinya pada tanggal

- A. 8 Maret
B. 14 Maret
C. 16 Maret
D. 26 Maret

63. Berikut adalah sifat-sifat dari bangun datar :

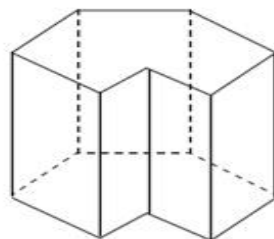
- (1) Sisi yang berhadapan sejajar.
- (2) Dua pasang sisinya sama panjang.
- (3) Sepasang sudutnya sama besar.
- (4) Keempat sudutnya siku-siku.

Yang merupakan sifat dari layang-layang adalah

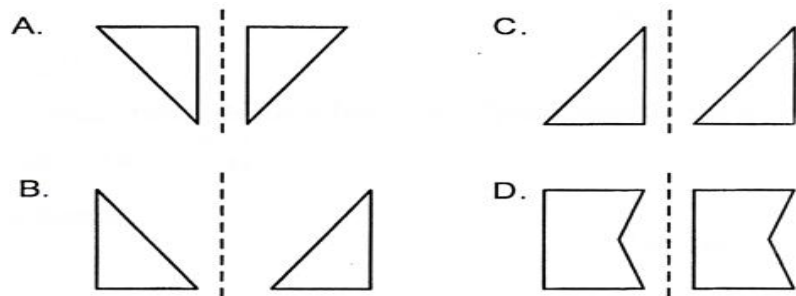
- A. (2) dan (3) C. (1) dan (3)
B. (2) dan (4) D. (1) dan (2)

64. Banyak sisi pada bangun di samping adalah

- A. 8
B. 9
C. 11
D. 12



65. Pencerminan yang benar ditunjukkan oleh gambar



66. Diketahui koordinat titik A (2,3), B (0,3), C (1,2) dan D (3,2). Apabila koordinat titik A, B, C, dan D dihubungkan akan terbentuk bangun datar

- A. Persegi C. Belah ketupat
B. Trapesium D. Jajar genjang

67. Ibu membeli beras 20 kuintal, kemudian diberikan kepada nenek 50 kg. Sisa beras ibu adalah ... ons

- A. 195 C. 19500
B. 1950 D. 195000

68. Kegiatan yang dilakukan oleh Hafizh pada hari libur adalah sebagai berikut:

No	Kegiatan	Waktu
1	Belajar	1 jam
2	Tidur	6 jam
3	Membantu orang tua	2 jam
4	Nonton TV	8 jam
5	Bermain	3 jam

Persentase waktu yang digunakan oleh Hafizh untuk bermain adalah

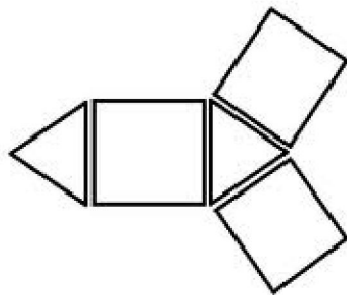
- A. 15 % C. 40 %
B. 30 % D. 60 %

69. Pak Samin mempunyai sawah seluas 1,54 ha yang akan dibagikan kepada kedua anaknya. Jika anak pertama mendapat tanah berbentuk persegi panjang berukuran 50 m x 170 m, maka anak kedua mendapatkan tanah seluas ... ha

- A. 0,69 C. 0,74
B. 0,70 D. 0,79

70. Gambar di bawah ini merupakan jaring-jaring dari bangun ruang

- A. Prisma segitiga
- B. Limas segitiga
- C. Prisma segiempat
- D. Limas segiempat

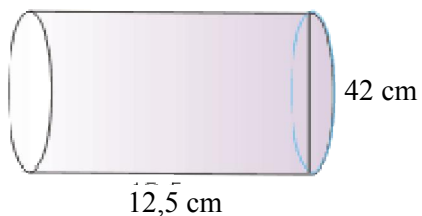


71. Sebuah bus kota berangkat dari kota A pukul 05.30 dan tiba di kota B pukul 11.00. Jika jarak kota A dan B 330 km, maka kecepatan rata-rata bus tersebut adalah

- A. 40 km/jam
- B. 50 km/jam
- C. 55 km/jam
- D. 60 km/jam

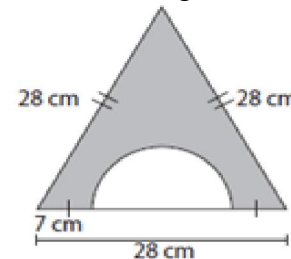
72. Perhatikan gambar tabung di bawah ini! Volume tabung tersebut adalah

- A. 525 cm^3
- B. 1.386 cm^3
- C. $1.649,8 \text{ cm}^3$
- D. 17.325 cm^3



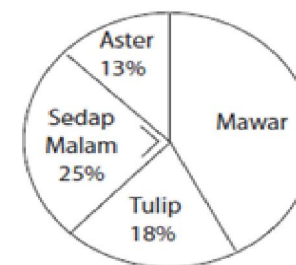
73. Perhatikan gambar di bawah ini! Keliling daerah yang diarsir adalah

- A. 48 cm
- B. 62 cm
- C. 92 cm
- D. 114 cm



74. Diagram lingkaran di bawah ini menunjukkan hasil penjualan bunga di toko Azzahra selama seminggu. Jika banyak bunga Aster yang terjual adalah 78 tangkai, maka banyak bunga mawar yang terjual adalah

- A. 44 tangkai
- B. 108 tangkai
- C. 150 tangkai
- D. 264 tangkai



75. Data berat badan anggota tim Voli sebagai berikut :

Berat Badan (kg)	Banyak Orang
52	3
54	2
55	2
60	3
65	2

Rata-rata berat badan tim Voli tersebut adalah

- A. 56 kg
- B. 57 kg
- C. 58 kg
- D. 59 kg