







120.   ج. هَذِهِ دَرَّاجَةٌ
د. هَذِهِ سَفِينَةٌ

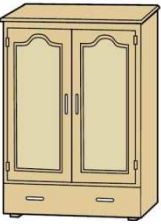

أ. هَذَا قِطَارٌ
ب. هَذِهِ سَيَّارَةٌ

121.   ج. هَذِهِ خِزَانَةٌ
د. هَذِهِ مِظَلَّةٌ



أ. هَذِهِ سَبُّورَةٌ
ب. هَذِهِ نَافِذَةٌ

122.   ج. هَذِهِ خِزَانَةٌ
د. هَذِهِ نَافِذَةٌ



أ. هَذِهِ سَبُّورَةٌ
ب. هَذِهِ مِظَلَّةٌ

123.   ج. هَذِهِ خِزَانَةٌ
د. هَذِهِ نَافِذَةٌ

أ. هَذِهِ سَبُّورَةٌ
ب. هَذِهِ مِظَلَّةٌ

124.   ج. هَذِهِ سَبُّورَةٌ
د. هَذِهِ مِظَلَّةٌ

أ. هَذِهِ خِزَانَةٌ
ب. هَذِهِ نَافِذَةٌ

125.   ج. هُوَ يَأْكُلُ
د. هُوَ يُصَلِّيُ

أ. هِيَ تُصَلِّيُ
ب. هُوَ يَلْعَبُ

111.



أ. هُوَ يَشَاهِدُ التِّلْفَازَ ج. هُوَ يَشْرَبُ اللَّبْنَ
ب. هُوَ يَأْكُلُ الطَّعَامَ د. هُوَ يَلْعَبُ الكُرَةَ

112.



أ. هَذِهِ خَمْسُونَ رُوبِيَّةً ج. هَذِهِ خَمْسَةُ مِلايينَ
ب. هَذِهِ د. هَذِهِ خَمْسَةُ آلافِ رُوبِيَّةً

خَمْسِمِائَةَ رُوبِيَّةً

113.



أ. هَذَا قَلَمٌ ج. هَذَا كِتَابٌ
ب. هَذَا بَيْتٌ د. هَذَا بَابٌ

114.



أ. هَذَا قَلَمٌ ج. هَذَا كِتَابٌ
ب. هَذَا بَابٌ د. هَذَا بَيْتٌ

115.



أ. هَذَا قَلَمٌ ج. هَذَا كِتَابٌ
ب. هَذَا بَابٌ د. هَذَا بَيْتٌ

116.



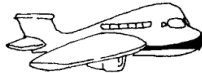
أ. هَذَا قَلَمٌ ج. هَذَا كِتَابٌ
ب. هَذَا بَابٌ د. هَذَا بَيْتٌ

117.



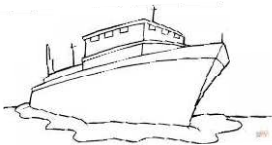
أ. هَذِهِ دَرَّاجَةٌ ج. هَذَا قِطَارٌ
ب. هَذِهِ سَفِينَةٌ د. هَذِهِ سَيَّارَةٌ

118.



أ. هَذِهِ طَائِرَةٌ ج. هَذَا قِطَارٌ
ب. هَذِهِ سَيَّارَةٌ د. هَذِهِ سَفِينَةٌ

119.



أ. هَذِهِ طَائِرَةٌ ج. هَذَا قِطَارٌ
ب. هَذِهِ دَرَّاجَةٌ د. هَذِهِ سَفِينَةٌ

104. أَيْ يَوْمِ الْآنَ ؟ الْآنَ
 أ. يَوْمُ الْوَاحِدِ
 ب. يَوْمُ الْإِثْنَيْنِ
 ج. يَوْمُ الْأَرْبَعَاءِ
 د. يَوْمُ الْخَمِيسِ
105. كَمِ السَّاعَةُ الْآنَ ؟ الْآنَ
 أ. السَّاعَةُ الْعَاشِرَةُ
 ب. السَّاعَةُ الثَّمَانِيَةُ
 ج. السَّاعَةُ التَّسْعَةُ
 د. السَّاعَةُ السَّبْعَةُ
106. مَا ضِدُّ كَلِمَةِ { قَلِيلٌ } ؟
 أ. قَرِيبٌ
 ب. ثَقِيلٌ
 ج. كَثِيرٌ
 د. بَعِيدٌ
107. مَا ضِدُّ كَلِمَةِ { بَعِيدٌ } ؟
 أ. قَرِيبٌ
 ب. ثَقِيلٌ
 ج. كَثِيرٌ
 د. بَعِيدٌ
108. مَا ضِدُّ كَلِمَةِ { لَيْلٌ } ؟
 أ. صَبَاحٌ
 ب. ظَهْرٌ
 ج. نَهَارٌ
 د. مَسَاءٌ
109. مَا ضِدُّ كَلِمَةِ { طَوِيلٌ } ؟
 أ. كَثِيرٌ
 ب. قَصِيرٌ
 ج. ثَقِيلٌ
 د. قَلِيلٌ
110. مَا ضِدُّ كَلِمَةِ { فَوْقَ } ؟
 أ. صَبَاحٌ
 ب. أَمَامَ
 ج. تَحْتَ
 د. مَسَاءٌ

97. ؟ لَمْ يَحْضُرْ لِأَنَّهُ مَرِيضٌ .
 أ. هَلْ أَحْمَدُ يَحْضُرُ
 ج. لِمَاذَا لَمْ يَحْضُرْ أَحْمَدُ
 ب. مَتَى يَحْضُرُ أَحْمَدُ
 د. كَيْفَ أَحْمَدُ يَحْضُرُ
98. ؟ لِأَفْهَمَ الْقُرْآنَ وَالْحَدِيثَ .
 أ. لِمَاذَا تَتَعَلَّمُ الْعَرَبِيَّةَ
 ج. لِمَاذَا تَدْرُسُ الْحِسَابَ
 ب. مَتَى تَتَعَلَّمُ الْعَرَبِيَّةَ
 د. كَيْفَ تَقْرَأُ الْقُرْآنَ
99. ؟ هُوَ يَكْتُبُ دَرَسًا .
 أ. أَيْنَ يَكْتُبُ أَحْمَدُ
 ج. مَتَى يَكْتُبُ أَحْمَدُ
 ب. كَيْفَ يَكْتُبُ أَحْمَدُ
 د. مَاذَا يَكْتُبُ أَحْمَدُ
100. ؟ صَدِيقِي مِنَ الْقَرْيَةِ .
 أ. أَيْنَ قَرْيَةُ الصَّدِيقِ
 ج. مِنْ أَيْنَ صَدِيقُكَ
 ب. كَيْفَ حَالُ الْقَرْيَةِ
 د. لِمَاذَا مِنَ الْقَرْيَةِ
101. كَمْ عُمْرُكَ ؟ سَنَةً .
 أ. عُمْرُكَ خَمْسَ عَشْرَةَ
 ج. عُمْرُكَ خَمْسَةَ عَشْرَةَ
 ب. عُمْرِي خَمْسَ عَشْرَةَ
 د. عُمْرِي خَامِسَ عَشْرَةَ
102. لِمَاذَا جِئْتَ إِلَى الْمَعْهَدِ ؟
 أ. جِئْتُ إِلَى الْمَعْهَدِ لِلنَّوْمِ
 ج. جِئْتُ إِلَى الْمَعْهَدِ لِللَّعِبِ
 ب. جِئْتُ إِلَى الْمَعْهَدِ لِلدِّرَاسَةِ
 د. جِئْتُ إِلَى الْمَعْهَدِ لِلدِّرَاسَةِ
103. مَنْ هَذِهِ ؟
 أ. هَذِهِ أُخْتِي
 ج. هَذَا أَخِي
 ب. هَذِهِ أَخِي
 د. هَذَا أَبِي

90.؟ جَاءَ إِلَى الْمَعْبَدِ قَبْلَ شَهْرٍ .
- أ. كَيْفَ جَاءَ إِلَى الْمَعْبَدِ
ب. مَتَى جَاءَ إِلَى الْمَعْبَدِ
ج. مَنْ جَاءَ إِلَى الْمَعْبَدِ
د. لِمَاذَا جَاءَ إِلَى الْمَعْبَدِ
91. مَتَى تَقُومُ مِنَ النَّوْمِ ؟
- أ. تَقُومُ السَّاعَةَ الرَّابِعَةَ
ب. يَقُومُ السَّاعَةَ الرَّابِعَةَ
ج. أَقُومُ السَّاعَةَ الرَّابِعَةَ
د. نَقُومُ السَّاعَةَ الرَّابِعَةَ
92. مَاذَا تَفْعَلُ بَعْدَ صَلَاةِ الصُّبْحِ ؟
- أ. أَقْرَأُ الْقُرْآنَ
ب. أَتَنَاوَلُ الْعِشَاءَ
ج. أَتَنَاوَلُ الْغَدَاءَ
د. أُصَلِّي السُّنَّةَ الْبُعْدِيَّةَ
93. أَيْنَ تَغْتَسِلُ ؟
- أ. تَغْتَسِلُ فِي الْحَمَّامِ
ب. يَغْتَسِلُ فِي الْمَطْبَخِ
ج. أَغْتَسِلُ فِي الْمَطْبَخِ
د. أَغْتَسِلُ فِي الْحَمَّامِ
94. مَاذَا تَفْعَلُ فِي الصَّبَاحِ قَبْلَ الذَّهَابِ إِلَى الْمَدْرَسَةِ ؟
- أ. أَتَنَاوَلُ الْعِشَاءَ
ب. أَتَنَاوَلُ الْفُطُورَ
ج. أَتَنَاوَلُ الْغَدَاءَ
د. أَتَنَاوَلُ الْحَقِيبَةَ
95. بِمَاذَا تَكْتُبُ ؟
- أ. أَكْتُبُ بِالْقَلَمِ
ب. أَكْتُبُ بِالسِّكِّينِ
ج. أَكْتُبُ بِالْكِتَابِ
د. أَكْتُبُ بِالسَّيْفِ
96.؟ لَا ، هَذَا كِتَابُ حَمْرَةَ .
- أ. أَهَذَا قَلَمُكَ يَا أَحْمَدُ
ب. أَهَذَا كِتَابُكَ يَا أَحْمَدُ
ج. أَذَلِكَ كِتَابُكَ يَا حَمْرَةَ
د. أَهَذِهِ كُرْسِيُّكَ يَا أَحْمَدُ

83.؟ أَسْكُنُ فِي الْقَرْيَةِ .
 أ. أَيْنَ تَسْكُنُ
 ب. أَيْنَ فِي الْقَرْيَةِ
 ج. أَيْنَ أَسْكُنُ
 د. أَيْنَ تَذْهَبُ
84.؟ أَنَا طَالِبٌ جَدِيدٌ .
 أ. مَنْ أَنْتَ يَا أَخِي
 ب. مَنْ أَنَا يَا أَخِي
 ج. مَنْ هِيَ يَا أَخِي
 د. مَنْ هُوَ يَا أَخِي
85. هَلْ بَيْتُكَ قَرِيبٌ مِنَ الْمَدْرَسَةِ ؟
 أ. لَا، بَيْتُكَ قَرِيبٌ مِنَ الْمَدْرَسَةِ
 ب. نَعَمْ، بَيْتِي قَرِيبٌ مِنَ الْمَدْرَسَةِ
 ج. نَعَمْ، بَيْتِي بَعِيدٌ مِنَ الْمَدْرَسَةِ
 د. نَعَمْ، بَيْتُكَ قَرِيبٌ مِنَ الْمَدْرَسَةِ
86. مَاذَا يَعْمَلُ أَبُوكَ ؟
 أ. أَخِي مُهَنْدِسٌ
 ب. أَبُوكَ مُدَرِّسٌ
 ج. أُمِّي مُدَرِّسَةٌ
 د. أَبِي طَبِيبٌ
87. مَا هَوَايَتُكَ ؟
 أ. لِمَاذَا تَتَعَلَّمُ الْعَرَبِيَّةَ
 ب. مَتَى تَتَعَلَّمُ الْعَرَبِيَّةَ
 ج. لِمَاذَا تَدْرُسُ الْحِسَابَ
 د. كَيْفَ تَقْرَأُ الْقُرْآنَ
88. مَاذَا تَلْعَبُ مَعَ أَصْدِقَائِكَ ؟ مَعَ أَصْدِقَائِي .
 أ. أَيْنَ يَكْتُبُ أَحْمَدُ
 ب. كَيْفَ يَكْتُبُ أَحْمَدُ
 ج. مَتَى يَكْتُبُ أَحْمَدُ
 د. مَاذَا يَكْتُبُ أَحْمَدُ
89. كَيْفَ تَذْهَبُ إِلَى الْمَدْرَسَةِ ؟
 أ. أَيْنَ قَرْيَةُ الصَّدِيقِ
 ب. كَيْفَ حَالُ الْقَرْيَةِ
 ج. مِنْ أَيْنَ صَدِيقُكَ
 د. لِمَاذَا مِنَ الْقَرْيَةِ

C. SOAL BAHASA ARAB

76. ؟ إِسْمِي أَحْمَدُ .
 أ. مَنْ إِسْمُكَ ج. مَا إِسْمُكَ
 ب. مَتَى إِسْمُكَ د. أَيَّنَ إِسْمُكَ
77. ؟ نَعَمْ أَنَا أَحْمَدُ .
 أ. هَلْ أَنَا أَحْمَدُ ج. هَلْ هُوَ أَحْمَدُ
 ب. هَلْ أَنْتَ أَحْمَدُ د. هَلْ هِيَ أَحْمَدُ
78. ؟ أَنَا مِنْ جَاكْرَتَا .
 أ. مِنْ أَيَّنَ هُوَ ج. مِنْ أَيَّنَ أَنَا
 ب. مِنْ أَيَّنَ هِيَ د. مِنْ أَيَّنَ أَنْتَ
79. ؟ أَنَا بِخَيْرٍ، وَالْحَمْدُ لِلَّهِ .
 أ. مَاذَا حَالُكَ ج. أَيَّنَ حَالُكَ
 ب. كَيْفَ حَالُكَ د. كَيْفَ حَالُكَ
80. ؟ هَذَا وَالِدِي .
 أ. مَنْ هَذَا ج. مَنْ وَالِدِي
 ب. مَنْ أَنْتَ د. مَنْ هَذِهِ
81. ؟ هَذِهِ وَالِدَتِي .
 أ. مَنْ وَالِدَتِي ج. مَنْ هَذِهِ
 ب. مَنْ أَنْتِ د. مَنْ تِلْكَ
82. ؟ أَخِي فِي الْغُرْفَةِ .
 أ. هَلْ فِي الْغُرْفَةِ ج. أَيَّنَ أَخُوهَا
 ب. أَيَّنَ أَخُوكَ د. لِمَاذَا فِي الْغُرْفَةِ

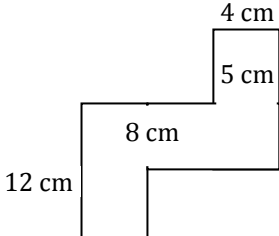
70. Jika diketahui $\sqrt{2,57} = 1,60$ dan $\sqrt{25,7} = 5,07$, maka nilai $\sqrt{2570}$ adalah
- A. 16
B. 50,7
C. 160
D. 507
71. Dua lingkaran masing-masing berjari-jari 20 cm dan 8 cm. Jika jarak antara dua pusat kedua lingkaran itu adalah 37 cm, maka garis singgung persekutuan luar kedua lingkaran tersebut adalah
- A. 25 cm
B. 32 cm
C. 35 cm
D. 40 cm
72. Suatu pekerjaan dapat diselesaikan selama 9 hari oleh 28 pekerja. Setelah dikerjakan selama 5 hari, pekerjaan terhenti selama 2 hari. Agar pekerjaan selesai tepat pada waktunya, maka diperlukan tambahan pekerja sebanyak orang
- A. 9
B. 18
C. 26
D. 28
73. Setiap 27 menit sekali Ikan Paus mengambil oksigen ke atas permukaan laut. Maka dalam waktu 19 jam 48 menit Ikan Paus muncul ke permukaan laut sebanyak
- A. 44 kali
B. 54 kali
C. 55 kali
D. 64 kali
74. Setiap 9 hari sekali Rahmat pergi ke gunung ciremai untuk mengontrol kebunnya. Sedangkan Gugun setiap 12 hari sekali pergi ke gunung Ciremai untuk mengambil getah karet. Jika mereka bertemu pertama kali pada tanggal 26 Januari 2008. Maka mereka bertemu kembali pada tanggal dan bulan
- A. 28 Februari
B. 29 Februari
C. 1 Maret
D. 2 Maret
75. Afif mengendarai mobil dari Semarang ke Brebes pada pukul 05.00 WIB dengan kecepatan rata-rata 80 km/jam. Jika jarak yang ditempuh adalah 720 km dan 45 menit digunakan untuk istirahat di Kota Kendal. Afif sampai ke Brebes pada pukul WIB
- A. 14.00
B. 14.15
C. 14.45
D. 15.15

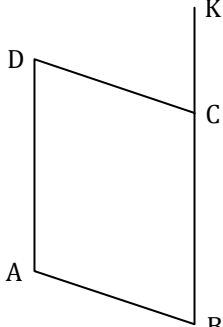
62. Diketahui sebuah taman berbentuk lingkaran dengan diameter 56 m. Jika di sekeliling taman tersebut akan ditanami sejumlah pohon dengan jarak antar pohon 2 m, maka pohon yang bisa ditanam sebanyak
- A. 24 pohon
B. 48 pohon
C. 58 pohon
D. 88 pohon
63. Dari 42 siswa kelas IXA, 24 siswa mengikuti ekstrakurikuler pramuka, 17 siswa mengikuti ekstrakurikuler PMR, 8 siswa tidak mengikuti kedua ekstrakurikuler. Maka banyaknya siswa yang mengikuti kedua kegiatan ekstrakurikuler adalah
- A. 7 orang
B. 8 orang
C. 9 orang
D. 10 orang
64. Wina mendapatkan uang pembinaan dari pemerintah daerah karena menang dalam perlombaan matematika. $\frac{1}{2}$ dari uang tersebut diberikan kepada orang tuanya. $\frac{1}{3}$ dari sisanya, ia gunakan untuk membeli peralatan sekolah, $\frac{1}{4}$ dari sisanya ia gunakan untuk membeli peralatan ibadah, dan $\frac{1}{2}$ dari sisanya untuk shodaqoh. Ternyata sisa akhir uang Wina adalah Rp. 750.000,-. Uang Wina mula-mula sebesar
- A. Rp. 8.000.000,-
B. Rp. 7.000.000,-
C. Rp. 6.000.000,-
D. Rp. 5.000.000,-
65. Nilai x yang memenuhi persamaan $3\left(2x + \frac{1}{3}\right) = 4\left(3x - \frac{1}{2}\right)$ adalah
- A. $\frac{1}{4}$
B. $\frac{1}{2}$
C. $\frac{1}{8}$
D. $\frac{1}{16}$
66. Diketahui tiga bilangan genap berturut-turut adalah A, B, C. Jumlah ketiga bilangan tersebut adalah 78. Maka $\frac{1}{3}$ kali bilangan pertama ditambah 5 dikali bilangan kedua dikurangi 5 dikali bilangan ketiga adalah
- A. 20
B. 10
C. 1
D. - 2
67. Hasil dari $\frac{a+b}{2} : \frac{2a+2b}{4}$ adalah
- A. $\frac{1}{2}$
B. $\frac{2}{3}$
C. 1
D. 2
68. Pak Juhendri menabung uang di Bank Salam sebesar Rp. 300.000,-. Setelah 5 bulan ia mendapat uang bagi hasil sebesar Rp. 37.500,-. Jika Pak Husni hendak menabung uang sebesar Rp. 500.000,- di bank yang sama, maka besar uang bagi hasil yang diterima Pak Husni setelah 6 bulan menabung adalah
- A. Rp. 90.000,-
B. Rp. 75.000,-
C. Rp. 62.000,-
D. Rp. 32.500,-
69. Ibu Cicih membeli kue dalam dua paket, Jika harga 3 paket pertama, dan 1 paket kedua adalah Rp. 55.000,-, serta harga 5 paket pertama dan 1 paket kedua adalah Rp. 81.000,-, maka harga paket pertama adalah
- A. Rp. 13.000,-
B. Rp. 17.000,-
C. Rp. 23.000,-
D. Rp. 33.000,-

48. Manusia hidup di akhirat bersifat baqa' artinya
- A. Sesaat
B. Sementara
C. Sebentar
D. Selamanya
49. Kehidupan dunia dan apa yang ada di dunia ini adalah fana, arti dari fana adalah
- A. Abadi
B. Sementara
C. Tidak rusak
D. Selamanya
50. Berikut ini fungsi iman kepada hari akhir, kecuali..
- A. Mendorong manusia untuk beramal saleh
B. Mengetahui tujuan hidup yang sebenarnya, yaitu ibadah
C. Menyadari bahwa kiamat masih lama dan menikmati kesenangan dunia
D. Selalu optimis dalam hidup

B. SOAL MATEMATIKA

51. Sisi-sisi di bawah ini yang tidak memenuhi sifat segitiga adalah
- A. 2, 5, 6
B. 1, 6, 7
C. 8, 10, 12
D. 9, 14, 20
52. Garis berat segitiga adalah ...
- A. garis yang ditarik dari titik sudut segitiga dan membagi sudut itu menjadi dua bagian yang sama besar
B. garis yang ditarik dari titik sudut segitiga dan tegak lurus terhadap sisi di hadapannya
C. garis yang ditarik dari titik sudut segitiga ke pertengahan sisi di hadapannya
D. garis yang ditarik dari pertengahan sisi segitiga dan tegak lurus dengan sisi tersebut

53.  Perhatikan gambar di samping!
Kelilingnya adalah ...
- A. 29 cm
B. 58 cm
C. 30 cm
D. 60 cm

54.  ABCD adalah jajar genjang dengan $\angle BAD = (x - 20^\circ)$, $\angle ADC = 5y$, $\angle DCK = 40^\circ$. Nilai $x + y$ adalah
- A. 40°
B. 80°
C. 108°
D. 168°

38. Setelah semua manusia dibangkitkan dari alam kubur kemudian dikumpulkan pada suatu tempat yang disebut
- A. Padang Arafah C. Padang Sahara
B. Padang Mahsyar D. Padang Uhud
39. Jalur yang harus dilewati sebagai penentu untuk menuju ke arah surga atau ke neraka setelah dimizani adalah
- A. Mizan C. Shirot
B. Mahsyar D. Hisab
40. Hari perhitungan amal perbuatan manusia selama hidup di dunia disebut...
- A. Yaumul jaza' C. Yaumul hisab
B. Yaumul mizan D. Yaumul barzakh
41. Timbangan amal perbuatan di akhirat nanti, atas semua perbuatan manusia selama hidup di dunia, adalah...
- A. Syirotol mustaqim C. Ba'ats
B. Mizan D. Hisab
42. Ayat di bawah ini menunjukkan hari kiamat itu
- إِنَّ السَّاعَةَ آتِيَةٌ لَا رَيْبَ فِيهَا
- A. Tandanya sudah ditampakkan Allah C. Kiamat itu mengerikan kejadiannya
B. Pasti terjadi tidak diragukan lagi D. Kedatangannya tidak pasti
43. Dahsyatnya hari kiamat disebutkan dalam Surat al-Qariah ayat 3 bahwa manusia seperti...
- A. Bulu-bulu dihamburkan C. Daun-daun yang dimakan ulat
B. Debu-debu beterbangan D. Anai-anai yang beterbangan
44. Berakhirnya kehidupan setiap makhluk yang bernyawa, rusaknya sebagian alam seperti gunung meletus, banjir dan sebagainya disebut kiamat
- A. Sugra C. Khaffi
B. Kubra D. Jally
45. Ketika berada di alam kubur semua manusia ditanya oleh dua malaikat yang bernama ...
- A. Israfi-Izrail C. Rokib-Atid
B. Munkar-Nakir D. Jibril-Mikail
46. Menurut Rasulullah SAW dalam salah satu hadisnya, bahwa amal perbuatan manusia yang pertama kali akan dihisab oleh Allah SWT adalah
- A. Puasa C. Shalat
B. Haji D. Zakat
47. Suatu tempat yang disediakan Allah swt bagi orang-orang yang ingkar kepada-Nya dinamakan
- A. Barzakh C. Shirat
B. Surga D. Neraka

27. Bagi orang yang beriman dan mengerjakan amal saleh akan memperoleh pahala
A. Yang tiada putus-putusnya C. Yang diperhitungkannya
B. Setimpal dengan perbuatannya D. Yang nyata di akhirat
28. Setiap ucapan, perbuatan, ketetapan Nabi Muhammad SAW disebut.....
A. Hadis C. Qiyas
B. Kitab D. Ijma
29. Allah SWT akan mengangkat derajat seseorang karena iman dan
A. Kekayaan C. Kedudukan
B. Keilmuan D. Jabatan
30. Percaya pada hari akhir atau kiamat termasuk rukun iman yang ke...
A. Dua C. Empat
B. Tiga D. Lima
31. Alam yang menjadi batas antara alam dunia dengan alam akhirat disebut alam
A. Mahsyar C. Malakut
B. Barzakh D. Roh
32. Ketika hari kiamat tiba seluruh manusia sibuk untuk mencari keselamatan
A. Diri sendiri C. Anaknya
B. Keluarganya D. Orangnya
33. Allah swt waktu kedatangan hari kiamat.
A. Menerangkan C. Memberitahukan
B. Merahasiakan D. Mengabarkan
34. Datangnya hari kiamat itu manakala umat dalam keadaan untuk mengingat Allah swt.
A. Siap C. Lalai
B. Terbuai D. Kacau balau
35. Secara bahasa Mizan artinya
A. Jalan C. Neraca/timbangan
B. Pintu D. Jembatan
36. Yaumul ba'ats artinya
A. Hari perhitungan
B. Hari bangkitnya manusia dari alam barzakh
C. Hari ditimbangannya amal manusia di dunia
D. Hari pembalasan seluruh amal manusia
37. **فَمَنْ يَعْمَلْ مِثْقَالَ ذَرَّةٍ خَيْرًا يَرَهُ**
Artinya: "Barangsiapa yang mengerjakan kebaikan seberat dzarrah pun, niscaya dia akan"
A. Menolong perbuatannya C. Melihat balasannya
B. Mendapat syafaatnya D. Menerima imbalannya

18. Shalat dapat mempererat tali persaudaraan dengan sesama muslim terutama bila dilakukan dengan cara
- A. Mendatangi masjid C. Dengan khusuk
B. Mun'farid D. Berjama'ah
19. Perhatikan macam-macam puasa di bawah ini :
- 1). Puasa Senin Kamis
2). Puasa Asy-Syura
3). Puasa Arafah
4). Puasa Ramadhan
5). Puasa Nazar
- Yang termasuk puasa sunnah adalah
- A. 1, 2, 3 C. 2, 3, 4
B. 1, 2, 4 D. 3, 4, 5
20. Surat dalam Al Qur'an yang menggambarkan tentang hari kiamat adalah surat
- A. At-Tiin C. Al-Qaari'ah
B. Al-Kautsar D. An-Naas
21. Dalam Surah At-Tin, Allah bersumpah dengan menyebut "Demi negeri yang aman", yang dimaksudkan negeri yang Aman adalah
- A. Kota Madinah C. Kota Baghdad
B. Kota Jedah D. Kota Mekah
22. فِي أَحْسَنِ تَقْوِيمٍ artinya adalah ...
- A. Dalam hasan yang sebaik-baiknya
B. Dalam akhlak yang sebaik-baiknya
C. Dalam bentuk yang sebaik-baiknya
D. Dalam jiwa yang sebaik-baiknya
23. Dalam surat at-Tin, Allah bersumpah dengan
- A. Buah tin, zaitun, dan bukit sinai
B. Buah tin, zaitun dan kota madinah
C. Buah tin, zaitun dan bukit uhud
D. Buah tin, zaitun dan buah-buahan
24. Bukit Sinai adalah tempat Nabi Musa a.s ...
- A. Mulai berjuang fisabilillah C. Diangkat menjadi Rasul
B. Menyebarkan ajaran agama D. Berdakwah kepada kaumnya
25. Surat At-Tiin termasuk surat...
- A. Makiyyah C. Muhkamat
B. Madaniyah D. Mutasyaabihat
26. Jumlah ayat yang terdapat pada Surah At Tin adalah
- A. 6 ayat C. 8 ayat
B. 7 ayat D. 9 ayat



NASKAH SOAL

UJIAN MASUK PONDOK PESANTREN (UMPP)
 ANGKATAN XXV
 TAHUN PEMBELAJARAN 2018/2019
 MADRASAH ALIYAH HUSNUL KHOTIMAH

PETUNJUK UMUM

01. Mulailah mengerjakan soal dengan mengucapkan Basmallah.
02. Tulislah terlebih dahulu nomor tes dan nama lengkap pada lembar jawaban.
03. Periksa dan bacalah soal-soal sebelum anda menjawabnya.
04. Kerjakan soal-soal dengan jujur dan teliti.
05. Tersedia waktu 180 menit untuk mengerjakan seluruh soal.
06. Total ada 125 butir soal; 50 soal PAI, 25 soal Matematika, dan 50 soal Bahasa Arab, dengan 4 (empat) pilihan jawaban pada setiap soalnya.
07. Laporkan kepada pengawas jika terdapat soal yang kurang jelas.
08. Mintalah kertas buram kepada pengawas bila diperlukan.
09. Dahulukan menjawab soal yang dianggap mudah.
10. Berikan tanda silang (X) pada kotak jawaban yang dianggap benar.
11. Jika ada jawaban yang dianggap salah dan ingin diperbaiki, maka lakukanlah seperti cara berikut:

a	b	c	d
X			

Jika ingin diganti jawabannya menjadi "b" maka rubahlah menjadi:

a	b	c	d
✗	X		

12. Periksalah pekerjaan Anda sebelum diserahkan kepada pengawas.
13. Akhiri semua pekerjaan dengan mengucapkan Hamdalah dan tawakkal kepada Allah SWT.

SELAMAT MENGERJAKAN